

4 класс**Вариант 10**

На задания 1-3 (опросник) отвечай под диктовку учителя.

Опросник**Задание 1**

По какой программе занимается ваш класс? Выберите один вариант ответа.

- 1) программа "Перспективная начальная школа"
- 2) программа "Планета знаний"
- 3) программа "Перспектива"
- 4) программа "Школа России"
- 5) программа по системе развивающего обучения Д. Б.Эльконина-В.В.Давыдова
- 6) программа "Начальная школа 21 век" (система Н. Ф. Виноградовой)
- 7) программа "Гармония"
- 8) другое

Задание 2

Укажите, сколько часов в неделю отведено на изучение математики.

- 1) 1-2 часа 2) 3-4 часа 3) 5-6 часов 4) больше 6 часов

Задание 3

Используете ли вы на уроках математики рабочие тетради?

- 1) да 2) нет

Выполни задания. В каждом задании выбери правильный ответ из 4 возможных. Правильный ответ всегда только один.

Правильный ответ можно обводить в тексте работы или отмечать значком X в бланке ответов.

Нельзя пользоваться учебниками, рабочими тетрадями, справочниками, калькулятором.

Задание 4

Какое число пропущено: 615, 607, ... , 591, 583?

- A. 597 Б. 598 В. 599 Г. 600

Задание 5

Чему равна сумма чисел 547 и 386?

- A. 161 Б. 261 В. 833 Г. 933

Задание 6

Выбери наименьшее значение времени.

- А. 1 ч 30 мин Б. 110 мин В. 120 мин Г. 2 ч

Задание 7

Чему равно значение выражения: $70 + 30 : (40 - 30)$?

- А. 10 Б. 73 В. 1000 Г. 730

Задание 8

Найди верное неравенство.

- А. $800 - 773 > 100$ Б. $200 < 132 + 68$ В. $754 - 247 > 500$ Г. $457 + 398 < 800$

Задание 9

Найди площадь клумбы прямоугольной формы, длина которой равна 8 м, а ширина — 6 м.

- А. 48 м Б. 28 м В. 48 м^2 Г. 24 м^2

Задание 10

Окопали 6 рядов чёрной смородины по 7 кустов в каждом и 8 рядов красной смородины по 9 кустов в каждом. На сколько больше окопали кустов красной смородины, чем чёрной?

- А. На 30 Б. На 2 В. На 36 Г. На 16

Задание 11

В первый день туристы прошли треть всего пути. Сколько километров всего надо пройти туристам, если в первый день они прошли 9 км?

- А. 18 км Б. 27 км В. 30 км Г. 81 км

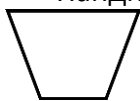
Задание 12

В канцелярском отделе было 140 тетрадей. После того, как несколько ребят купили по 6 тетрадей, в отделе осталось 56 тетрадей. Сколько ребят купили тетради?

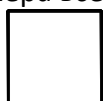
- А. 14 Б. 24 В. 42 Г. 84

Задание 13

Найди номера всех прямоугольников.



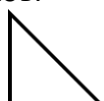
1




2




3



4



5



6

- А. 1, 2, 4, 6

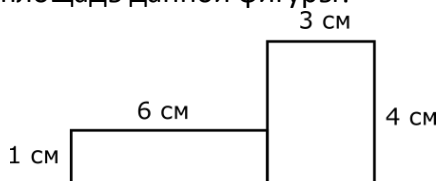
- Б. 2, 6

- В. 2, 4, 5, 6

- Г. 2, 5

Задание 14

Как можно вычислить площадь данной фигуры?



- А. $4 + 3 + 6 + 1$ Б. $6 \cdot 1 + 3 \cdot 4 + 6 \cdot 4 + 1 \cdot 3$ В. $(6 + 3) \cdot 4$ Г. $3 \cdot 4 + 6 \cdot 1$

Задание 15

54 дм — это ...

- А. 5 м 40 дм Б. 5400 см В. 5 дм 4 см Г. 5 м 40 см

Задание 16

Сколько стоят билеты для семьи из двух взрослых и трёх детей на дневной сеанс?

Билеты	Сеансы		
	Утренний	Дневной	Вечерний
Взрослый	200 р.	300 р.	450 р.
Детский	70 р.	100 р.	—

- А. 900 р. Б. 610 р. В. 540р. Г. 800 р.

Задание 17

Сколько понадобится четырёхместных номеров, чтобы расселить 5 групп туристов по 7 человек в каждой группе?

- А. 7 Б. 8 В. 9 Г. 10

Задание 18

В зоопарке живут 2 глухаря. Каждому глухарю ежедневно дают 3 г берёзовых почек. Сколько граммов берёзовых почек надо запастись для глухарей на июль и август?

- А. 124 г Б. 186 г В. 366 г Г. 372 г

Задание 19

На упаковке с солёной рыбой указаны дата изготовления — 26 июня и срок хранения — 10 суток. Какого числа солёную рыбу можно использовать в пищу?

- А. 27 июля Б. 3 июля В. 10 июля Г. 7 июля

Задание 20

Вычислите: $840 - 40 : 10 \cdot 4$.

А. 20

Б. 320

В. 824

Г. 839

Задание 21*

Какое выражение можно прочитать так: «Сумму чисел 32 и 8 увеличить на их частное»?

А. $(32 + 8) + 32 \cdot 8$ Б. $(32 - 8) + 32 : 8$ В. $(32 + 8) + (32 - 8)$ Г. $(32 + 8) + 32 : 8$ **Задание 22***

Какое число пропущено в выражении: $8 \cdot 6 - 40 = 36 : \square + 4$?

А. 8

Б. 9

В. 6

Г. 4

Задание 23*

Рассмотри таблицу. Кто ответил на вопросы викторины быстрее всех?

Имя	Время начала работы	Время окончания работы
Ирина	13 ч 45 мин	14 ч 05 мин
Карина	13 ч 20 мин	13 ч 55 мин
Виктор	12 ч 50 мин	13 ч 20 мин
Сергей	12 ч 15 мин	13 ч 00 мин

А. Ирина

Б. Карина

В. Виктор

Г. Сергей