

2 класс**Вариант 9**

На задания 1-3 (опросник) отвечай под диктовку учителя.

Опросник**Задание 1**

По какой программе занимается ваш класс? Выберите один вариант ответа.

- 1) программа "Перспективная начальная школа"
- 2) программа "Планета знаний"
- 3) программа "Перспектива"
- 4) программа "Школа России"
- 5) программа по системе развивающего обучения Д. Б.Эльконина-В.В.Давыдова
- 6) программа "Начальная школа 21 век" (система Н. Ф. Виноградовой)
- 7) программа "Гармония"
- 8) другое

Задание 2

Укажите, сколько часов в неделю отведено на изучение математики.

- 1) 1-2 часа 2) 3-4 часа 3) 5-6 часов 4) больше 6 часов

Задание 3

Используете ли вы на уроках математики рабочие тетради?

- 1) да 2) нет

Выполни задания. В каждом задании выбери правильный ответ из 4 возможных. Правильный ответ всегда только один.

Правильный ответ можно обводить в тексте работы или отмечать значком X в бланке ответов.

Нельзя пользоваться учебниками, рабочими тетрадями, справочниками, калькулятором.

Задание 4

Какие числа находятся между числами 6 и 12?

- А. 5 и 9 Б. 8 и 14 В. 9 и 11 Г. 2 и 15

Задание 5

В вазе лежит 12 красных яблок, а зелёных на 5 яблок меньше. Значит, в вазе лежит зелёных ...

- А. 5 яблок Б. 7 яблок В. 8 яблок Г. 17 яблок

Задание 6

Какое предложение составлено по рисунку верно?

- А. Квадратов и кругов одинаковое количество.
- Б. Треугольников меньше, чем квадратов.
- В. Треугольников больше, чем кругов.
- Г. Кругов больше, чем квадратов.



Задание 7

Какое число надо вставить в □, чтобы получилось верное равенство: $8 + \square = 14$?

- А. 7
- Б. 6
- В. 5
- Г. 3

Задание 8

Роме надо проплыть 15 метров. После того, как он проплыл несколько метров, ему осталось проплыть ещё 6 метров. Сколько метров проплыл Рома?

- А. 11
- Б. 6
- В. 9
- Г. 15

Задание 9

Какое число можно заменить суммой двух одинаковых слагаемых?

- А. 11
- Б. 13
- В. 12
- Г. 15

Задание 10

На рисунке мячик без полоски...



- А. Четвёртый справа
- Б. Пятый справа
- В. Третий слева
- Г. Пятый слева

Задание 11

Какой пример решён верно?

- А. $11 - 7 = 5$
- Б. $9 + 5 = 15$
- В. $7 + 5 = 13$
- Г. $14 - 8 = 6$

Задание 12

В таблице записано, что купила мама.

				
5 кг	3 кг	4 кг	6 кг	2 кг

Сколько килограммов овощей купила мама?

Задача решается так:

- А. $5 + 4 + 2$
- Б. $5 + 3 + 4 + 2 + 6$
- В. $4 + 2 + 3$
- Г. $3 + 6$

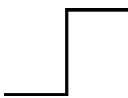
Задание 13

У какой фигуры название записано верно?

А. Треугольник




Б. Прямая



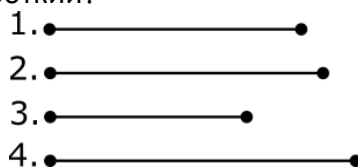
В. Круг



Г. Квадрат

**Задание 14**

Какой отрезок самый короткий?



А. 1

Б. 2

В. 3

Г. 4

Задание 15

Выбери **неверное** предложение.

А. С помощью линейки можно измерить длину луча.

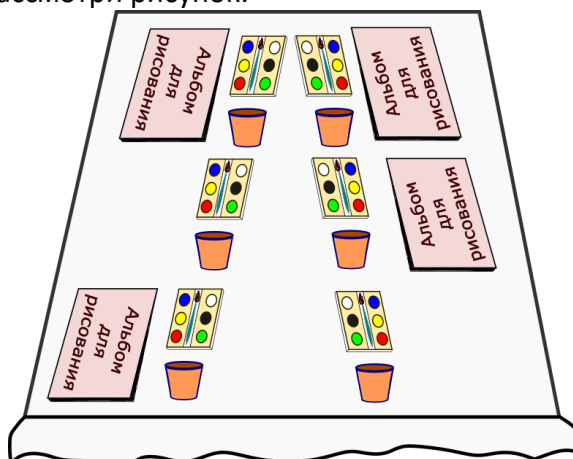
Б. С помощью линейки можно измерить ширину тетради.

В. С помощью линейки можно измерить высоту кувшина.

Г. С помощью линейки можно измерить длину отрезка.

Задание 16*

На столе детям разложили наборы для рисования: альбом, краски с кистью, баночка для воды. Рассмотрите рисунок.



Сколько альбомов не хватает?

А. 5

Б. 4

В. 3

Г. 2

Задание 17*

В каком примере результат будет отличаться от остальных?

А. $9 + 3$

Б. $4 + 7$

В. $13 - 2$

Г. $6 + 5$

Задание 18*

Укажи верное неравенство.

А. $10 - 5 < 11 - 6$

Б. $12 - 6 > 6 + 3$

В. $3 + 3 > 9 - 2$

Г. $8 + 2 < 5 + 6$